



1.příklad Černý na tahu (pš 3/274)




Černý zahrál 1...dxc4, jak pokračoval bílý?

2.příklad Černý na tahu (pš 2/97)




?

3.příklad Bílý na tahu (pš 1/250)



Může bílý sebrat pěšce b7?


4.příklad Černý na tahu (pš 2/113)




?

**!!! 1.úkol: nad každý diagram doplňte  
název dané varianty sicilské !!!**


**!!! 2.úkol: na konci druhé stránky napište,  
jaké jiné znáte sicilky kromě otevřené 2.Jf3 !!!  
druhá strana ze tří**




**1.e4 c5 2.Jf3 d6 3.d4 cxd4 4.Jxd4 Jf6 5.Jc3 g6**





**1.e4 c5 2.Jf3 Jc6 3.d4 cxd4 4.Jxd4 g6**



**1.e4 c5 2.Jf3 d6 3.d4 cxd4 4.Jxd4 Jf6 5.Jc3 a6**



**1.e4 c5 2.Jf3 e6**



1.e4 c5 2.Jf3 d6 3.d4 cxd4 4.Jxd4 Jf6 5.Jc3 e6    1.e4 c5 2.Jf3 Jc6 3.d4 cxd4 4.Jxd4 Jf6 5.Jc3 e5

Jaké další sicilky znáte kromě otevřené 2.Jf3?

.....  
.....  
.....  
.....  
.....

**Hodně štěstí  
v sicilské obraně !!!**