


10. lekce: ■ ■ ■

Další případy remízy



V této lekci se naučíme:

- Remíza dohodou hráčů!
- Správní bojovníci hrají až do konce!
- Remíza věčným šachem!
- Procvičíme si počítání figurek na šachovnici!

Pod každým diagramem označte, jestli je správné dohodnout remízu.
Správní bojovníci zbytečné remízy nedávají - bojují až do konce!!!



Přijmou bojovníci remízu?



ANO

NE


Přijmou bojovníci remízu?



ANO

NE

Pod každým diagramem označte, jestli je správné dohodnout remízu.
 Remízu je správné přijmout jen tehdy, když už nemůžeme zvítězit.



Přijmou bojovníci remízu?



ANO

NE

Přijmou bojovníci remízu?



ANO

NE

Najděte, jak v těchto pozicích můžeme remizovat věčným šachem.
Soupeřův král před naším šachováním nikam neuteče!



Černý na tahu



1...Dg3+
2.Kh1 Dh3+ 3.Kg1 Dg3+

Bílý na tahu



1.Dh5+ Kg8
2.De8+ Kh7 3.Dh5+

Bílý na tahu



1.Dd8+ Kb7 2.Dd7+ Ka6
3.Da4+ Kb7 4.Dd7+

Najděte, jak v těchto pozicích můžeme remizovat věčným šachem.
V těžké situaci to může být poslední naděje, jak uniknout prohře.

Bílý na tahu



1.Vg7+ Kh8 2.Vh7+ Kg8
3.Vhg7+ Kf8 4.Vgf7+

Černý na tahu



1...Vf2+
2.Kg1 Vf1+ 3.Kg2 Vf2+

Bílý na tahu




1.Jh6++ Kh8
2.Jf7+ Kg8 3.Jh6++

Černý na tahu



1...Jh2+ 2.Kg1 Jf3+
3.Kf1 Jh2+ 4.Ke1 Jf3+

Počítání figurek na šachovnici



Řešte úkoly podle zadání nad každým diagramem.

Jaká je materiální hodnota všech figurek na f-sloupci?



19

Jaká je materiální hodnota všech figurek na 7. řadě?



9

Řešte úkoly podle zadání nad každým diagramem.

Jaká je materiální hodnota černých figurek na královském křídle?



14

Jaká je materiální hodnota bílých figurek na dámském křídle?



18

Jaká je materiální hodnota všech figurek na diagonále a1-h8?



12

Jaká je materiální hodnota všech figurek na bílých polích?



20

Ke každému diagramu napište, který hráč vyhrává a o kolik bodů.
Ale pozor, mít více materiálu ještě neznamená mít lepší pozici!

Kdo vyhrává a o kolik?



Kdo vyhrává a o kolik?



černý o 2

bílý o 3

