


33. lekce: ■ ■ ■

Střelec proti jezdcí v koncovce



V této lekci se naučíme:

- Aktivní a pasivní střelec!
- Aktivní a pasivní jezdec!
- Střelec má rád otevřenou pozici a hru na obou křídlech!
- Jezdec má rád zablokovanou pozici a hru na jednom křídle!
- Zahrajeme si šachovou hru Střelec, nebo jezdec!



Pod každý diagram napište, jestli je střelec aktivní, nebo pasivní.
 Aktivní střelec má volné diagonály a nezavazí mu vlastní pěšci.



Je střelec d4 aktivní, nebo pasivní?



aktivní

Je střelec c1 aktivní, nebo pasivní?



pasivní

Je střelec e6 aktivní, nebo pasivní?



aktivní

Pod každý diagram napište, jestli je jezdec aktivní, nebo pasivní.
 Aktivní jezdec je pohyblivý, má opěrné body a dobré cíle útoku.

Je jezdec e5 aktivní, nebo pasivní?



aktivní



Je jezdec a4 aktivní, nebo pasivní?



pasivní

Je jezdec g6 aktivní, nebo pasivní?



pasivní

Pod každý diagram napište, jestli je lepší střelec, nebo jezdec.
 Na velkém prostoru je lepší střelec, na menším prostoru jezdec.



Je lepší střelec, nebo jezdec?



..... jezdec

Je lepší střelec, nebo jezdec?



..... střelec

Je lepší střelec, nebo jezdec?



..... střelec

Pod každý diagram napište, jestli je lepší střelec, nebo jezdec. Střelec je lepší v otevřené pozici, jezdec v zablokované pozici.

Je lepší střelec, nebo jezdec?



.....
střelec

Je lepší střelec, nebo jezdec?



.....
jezdec

Je lepší střelec, nebo jezdec?



.....
jezdec

Je lepší střelec, nebo jezdec?



.....
střelec

Pod každým diagramem zakroužkujte tah, který byste doporučili.
 Při hře na obou křídlech je střelec mnohem silnější než jezdec!



Který tah byste **bílému** doporučili?



1.h6 1.Kf6 **1.Sxa2**

Který tah byste **bílému** doporučili?



1.g4 1.Kc2 1.Sc7

Který tah byste **černému** doporučili?



1...Sd5 **1...Sxa2** 1...b3

Pod každým diagramem zakroužkujte tah, který byste doporučili. Střelec má dlouhé nohy a dokáže působit na obě křídla zároveň.

Který tah byste **bílému** doporučili?



1.Kd3 **1.b6** 1.Kf2

Který tah byste **bílému** doporučili?



1.Se1 1.g4 **1.Se5**

Který tah byste **černému** doporučili?



1...Kc5 1...c5 1...Ke6

Který tah byste **černému** doporučili?



1...Kb3 **1...Sxd1** 1...Kxd4

Pod každým diagramem zakroužkujte tah, který byste doporučili.
 Při hře na jednom křídle je obratný jezdec silnější než střelec!



Který tah byste **bílému** doporučili?



1.Kb7 **1.Jb6+** 1.Je5+

Který tah byste **bílému** doporučili?



1.Jc5 1.b4 1.Jf4

Který tah byste **černému** doporučili?



1...Jb1+ 1...g6 **1...Jxe2**

Pod každým diagramem zakroužkujte tah, který byste doporučili.
Šikovní skoky jezdecke mají na malém prostoru velikou sílu.

Který tah byste **bílému** doporučili?



1.Jh6 1.Jf6 1.Kf6

Který tah byste **bílému** doporučili?



1.h7 1.Jf3 1.Jb5+

Který tah byste **černému** doporučili?



1...Kxh4 1...Jxg2 1...Jf5+

Který tah byste **černému** doporučili?



1...Je5 1...h4 1...Jh4

Střelec, nebo jezdec?

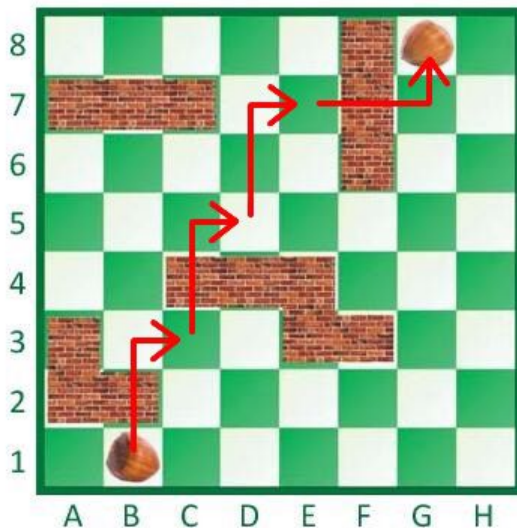


Střelec i jezdec jsou šikovní figury, které se spolu občas hádají, která z nich je v dané pozici silnější.

Na našich dvou diagramcích mezi sebou uspořádaly závody. Snaží se doběhnout co nejrychleji od jednoho oříšku k druhému.

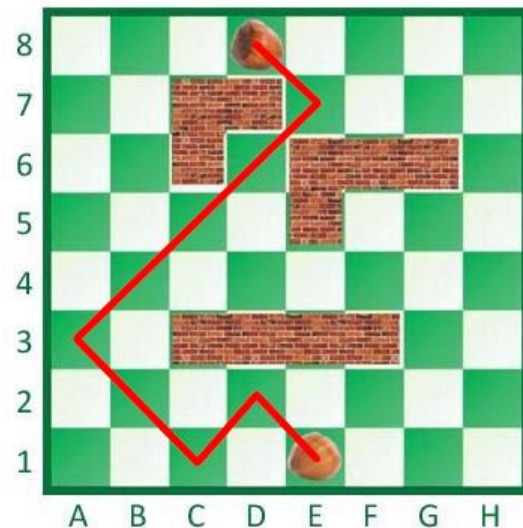
V cestě jim stojí překážky, které je omezují v pohybu. Která figura zvládne trasu za méně tahů a za kolik?

Zvládne trasu mezi dvěma oříšky za méně tahů střelec, nebo jezdec?



..... jezdec, 4 tahů

Zvládne trasu mezi dvěma oříšky za méně tahů střelec, nebo jezdec?



..... střelec, 5 tahů