


HRADIŠTĚ A, DÚ21a, 08.02.2021
Taktika a sicilky


první strana ze tří

1.příklad Černý na tahu (pš 3/274)




Černý zahrál 1...dxc4, jak pokračoval bílý?

2.příklad Černý na tahu (pš 2/97)




?

3.příklad Bílý na tahu (pš 1/250)



Může bílý sebrat pěšce b7?

4.příklad Černý na tahu (pš 2/113)




?


HRADIŠTĚ A, DÚ21a, 08.02.2021
Taktika a sicilky

**!!! 1.úkol: nad každý diagram doplňte
 název dané varianty sicilské !!!**


**!!! 2.úkol: na konci druhé stránky napište,
 jaké jiné znáte sicilky kromě otevřené 2.Jf3 !!!
 druhá strana ze tří**




1.e4 c5 2.Jf3 d6 3.d4 cxd4 4.Jxd4 Jf6 5.Jc3 g6





1.e4 c5 2.Jf3 Jc6 3.d4 cxd4 4.Jxd4 g6



1.e4 c5 2.Jf3 d6 3.d4 cxd4 4.Jxd4 Jf6 5.Jc3 a6



1.e4 c5 2.Jf3 e6



1.e4 c5 2.Jf3 d6 3.d4 cxd4 4.Jxd4 Jf6 5.Jc3 e6 1.e4 c5 2.Jf3 Jc6 3.d4 cxd4 4.Jxd4 Jf6 5.Jc3 e5

Jaké další sicilky znáte kromě otevřené 2.Jf3?

.....

.....

.....

.....

.....

**Hodně štěstí
v sicilské obraně !!!**