



HRADIŠTĚ A, DÚ42a, 29.06.2018,
Taktika + koncovky mix

!!! Všechny diagramy řešte
postavené na šachovnici !!!
první strana ze dvou


1.příklad Bílý na tahu (pš 4/309)




2.příklad Bílý na tahu (pš 3/47)



3.příklad Bílý na tahu (pš x226)



4.příklad Černý na tahu (C,026)



Zachraňte vojína Ryana!
 (nebo aspoň černého v této pozici před porážkou)

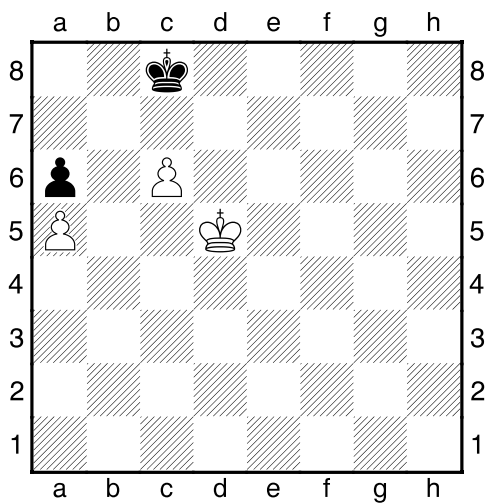
HRADIŠTĚ A, DÚ42a, 29.06.2018,
Taktika + koncovky mix
(ŠK Biolek 010,3)

!!! Pod každý diagram napište první tah a jak partie dopadne !!!


druhá strana ze dvou



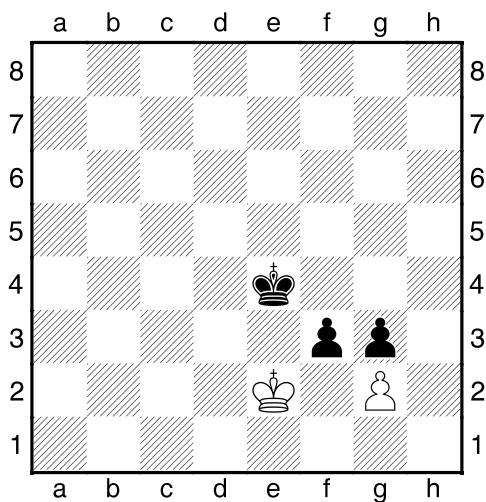
1.příklad Černý na tahu



2.příklad Černý na tahu



3.příklad Bílý na tahu



4.příklad Bílý na tahu

