


HRADIŠTĚ B, DÚ02a, 13.09.2021,
Taktika a koncovky


první strana ze tří

1.příklad Černý na tahu (pš 1/243)




Černý zahrál 1...b6. Jak pokračoval bílý?

2.příklad Černý na tahu (pš 2/130)




Černý zahrál 1...Dxb2. Jak pokračoval bílý?

3.příklad Černý na tahu (pš x062)



?

4.příklad Bílý na tahu (pš x125)



?

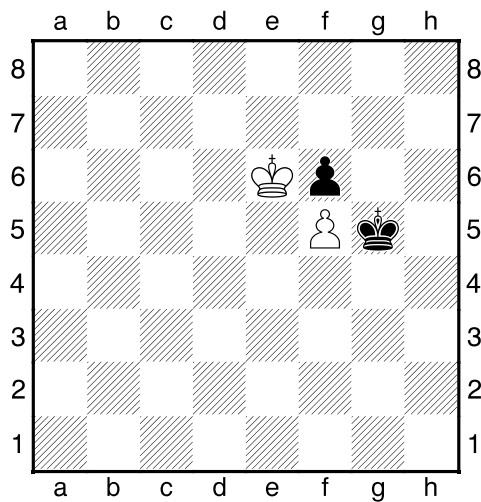
HRADIŠTĚ B, DÚ02a, 13.09.2021,
Taktika a koncovky
 (Biolk 008,4)

!!! Pod každý diagram napište první tah a jak partie dopadne !!!

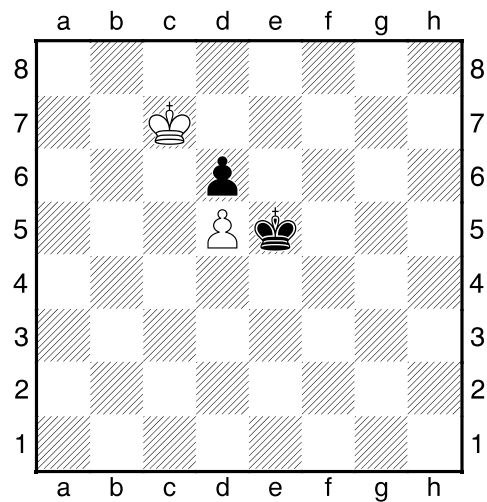
druhá stránka ze tří




1.příklad Černý na tahu



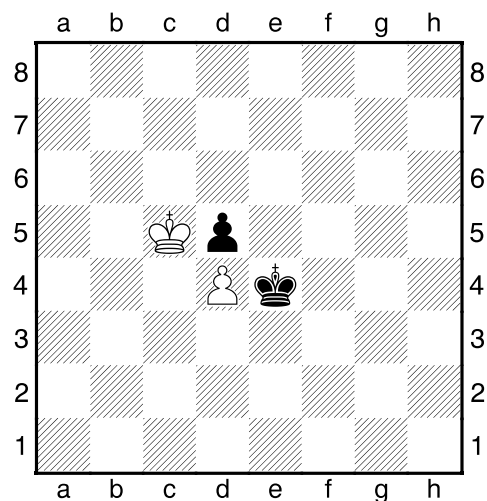
2.příklad Bílý na tahu



3.příklad Černý na tahu



4.příklad Bílý na tahu



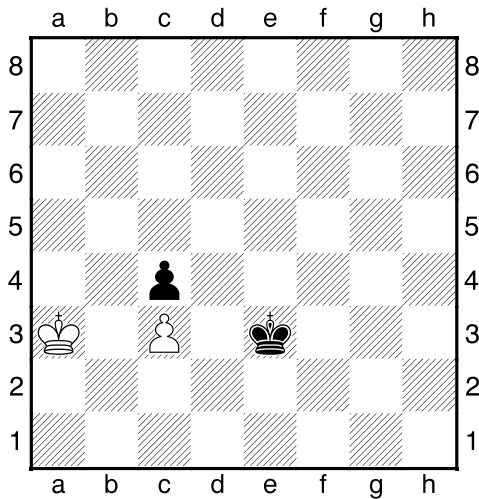
HRADIŠTĚ B, DÚ02a, 13.09.2021,
Taktika a koncovky
(Biolk 008,4)

!!! Pod každý diagram napište první tah a jak partie dopadne !!!

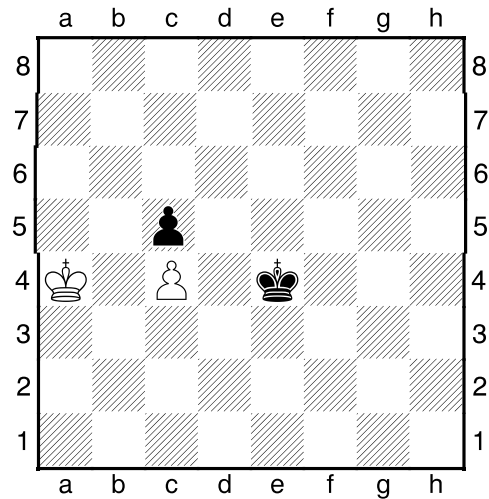
třetí stránka ze tří



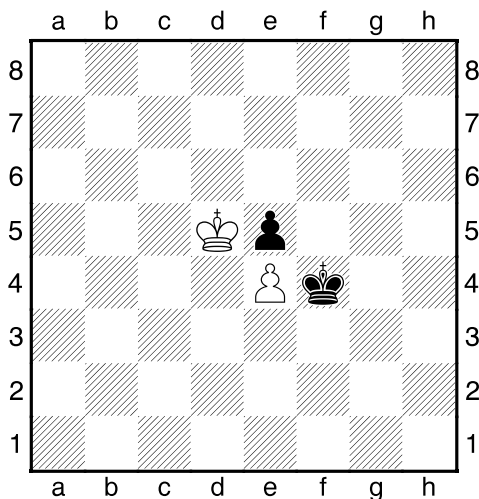
1.příklad Černý na tahu



2.příklad Černý na tahu



3.příklad Bílý na tahu



4.příklad Bílý na tahu

