



HRADIŠTĚ B DÚ23a 22.02.2021,
Taktika


1.příklad Černý na tahu (pš x057)




2.příklad Černý na tahu (pš 2/193)



3.příklad Bílý na tahu (pš x235)




4.příklad Bílý na tahu (pš x169)



HRADIŠTĚ B DÚ23a 22.02.2021,
Názvy zahájení a koncovky TEST

!!! doplňte správné názvy zahájení !!!
!!! pod každým diagramem doplňte,
jestli se jedná
o otevřené nebo polootevřené zahájení!!!

1) název zahájení:




1.e4 Jf6

Je to otevřené nebo polootevřené zahájení?

Odpověď:

2) název zahájení:




1.e4 c6

Je to otevřené nebo polootevřené zahájení?

Odpověď:

3) název zahájení:




1.e4 e5 2.Jf3 Jf6

Je to otevřené nebo polootevřené zahájení?

Odpověď:

4) název zahájení:




1.e4 e5 2.Jf3 Jc6 3.d4

Je to otevřené nebo polootevřené zahájení?

Odpověď:

5) název zahájení:




1.e4 e5 2.Jf3 Jc6 3.Sc4 Sc5 4.b4

Je to otevřené nebo polootevřené zahájení?

Odpověď:

6) název zahájení:




1.e4 d5

Je to otevřené nebo polootevřené zahájení?

Odpověď:

7) název zahájení:




1.e4 e5 2.Jc3

Je to otevřené nebo polootevřené zahájení?

Odpověď:

8) název zahájení:



1.e4 e5 2.Jf3 d6

Je to otevřené nebo polootevřené zahájení?

Odpověď: