


HRADIŠTĚ B, DÚ38a, 05.06.2020,
Taktika + koncovky mix


!!! Všechny diagramy řešte na šachovnici !!!

první strana ze dvou


1.příklad Bílý na tahu (pš x013)




2.příklad Bílý na tahu (pš 1/283)



3.příklad Bílý na tahu (pš 3/47)



4.příklad Bílý na tahu (pš x182)




HRADIŠTĚ B, DÚ38a, 05.06.2020,

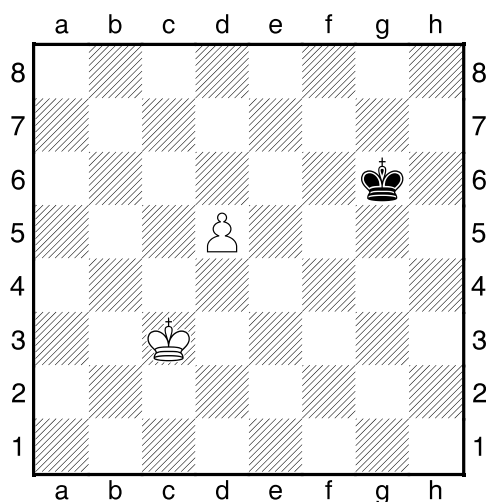
Taktika + koncovky mix

(ŠK Biolek 007,3)

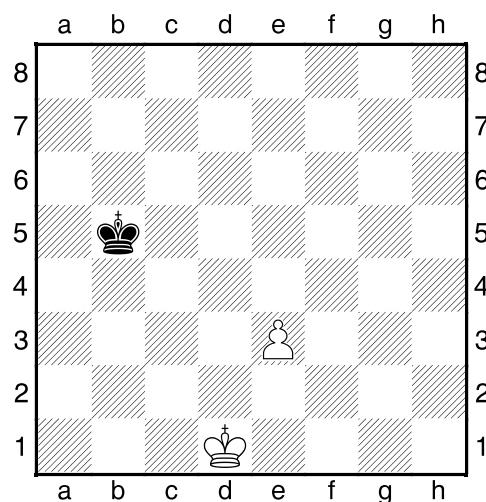
!!! Pod každý diagram napište první tah a jak partie dopadne !!!
(navíc můžete v diagramech označit KP)
druhá strana ze dvou



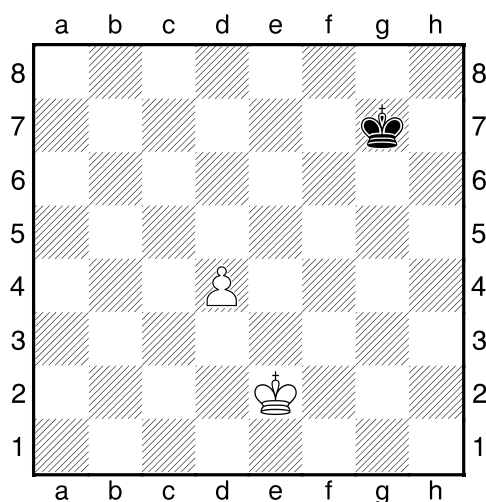
1.příklad Bílý na tahu



2.příklad Bílý na tahu



3.příklad Černý na tahu



4.příklad Černý na tahu

