



HRADIŠTĚ C, DÚ36b, 18.05.2018,
Taktika obtížnější plus

první strana z jedné


1.příklad Černý na tahu (pš 3/218)




2.příklad Bílý na tahu (pš 3/281)



3.příklad Bílý na tahu (pš 1/34)



4.příklad Bílý na tahu (pš 1/139)



Spočítejte, k čemu vede překrásný tah 1.Dg6!!