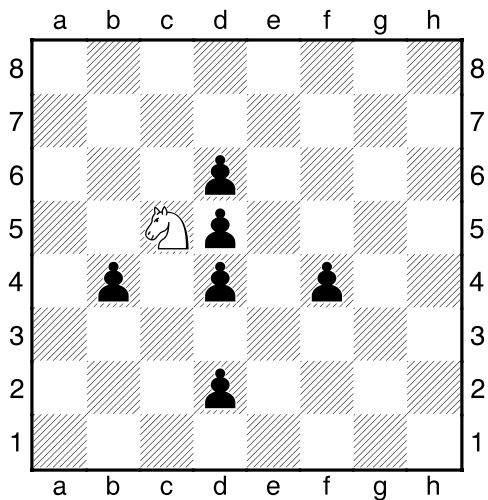


**HRADIŠTĚ D, DÚ22b, 09.02.2018,**  
**Koník je žrout**

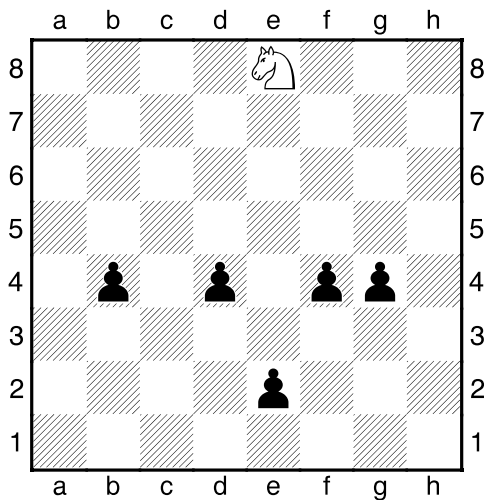
**!!! Pod každý diagramek napište,**  
**na kolik nejméně tahů dokáže bílý koník**  
**sežrat všechny černé pěšáky !!!**  
 (protože má velký hlad a ničeho se nebojí,  
 může baštit i kryté pěšáky!)

1.příklad Za kolik tahů koník všechno sní?




Odpověď: .....

2.příklad Za kolik tahů koník všechno sní?



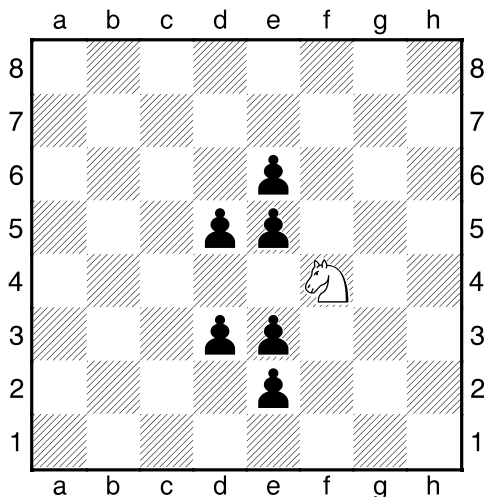
Odpověď: .....

3.příklad Za kolik tahů koník všechno sní?



Odpověď: .....

4.příklad Za kolik tahů koník všechno sní?



Odpověď: .....